

(SET-B)

060102

Candidate's Roll No. ...S.0.6.0.6.102.....

Signature of the invigilator

Time: 2 Hours

SSF JAMIA MILLIA ISLAMIA  
New Delhi

Maximum Marks: 100

### Instructions to Candidate

امیدواروں کے لیے ہدایات

अभ्यर्थियों के लिए निर्देश

1. Please read very carefully the instructions for filling up the OMR Answer Sheet.  
براه کرم او ایم آر جواب نامہ بھرنے سے متعلق ہدایات پوری توجہ سے پڑھیے۔  
कृप्या ओ० एम० आर० उत्तरावली भरने से संबंधित निर्देशों को ध्यानपूर्वक पढ़िये।
2. There is no negative marking in the test.  
اس امتحان میں کوئی منفی مارکنگ نہیں ہے۔  
इस जांच में कोई नकारात्मक मार्किंग नहीं है।
3. The use of calculator is not allowed.  
کیلکولیٹر استعمال کرنے کی اجازت نہیں ہے۔  
कैलकूलेटर उपयोग करने की अनुमति नहीं है।
4. Please hand over the OMR Sheet to the invigilator before leaving the examination hall.  
براه کرم امتحان گاہ چھوڑنے سے پہلے او ایم آر شیٹ نگران کے حوالے کریں۔  
कृप्या परीक्षा कक्ष छोड़ने से पूर्व ओ० एम० आर० शीट निरीक्षक को सुपुर्द करें।
5. There shall be no re-checking/re-evaluation of answer sheet.  
جواب ناموں کی دوبارہ جانچ/دوبارہ تحسیب نہیں کی جائے گی۔  
उत्तर-पुस्तिकाओं का पुनर्निरीक्षण/पुनरांकलन नहीं किया जायेगा

1. The weight of a coin is 9 g. How many coins are there in a sack if it weighs 2 kg and 250 g.

SSF JAMIA MILLIA ISLAMIA  
New Delhi

- (a) 100 coins (b) 200 coins  
(c) 250 coins (d) 500 coins

एक सिक्के का वजन 9 ग्राम है। 2 किग्रा और 250 ग्राम वजन में कितने सिक्के होंगे?

- (a) 100 (b) 200  
(c) 250 (d) 500

एक सिक्के का वजन 9 ग्राम है। 2 किग्रा और 250 ग्राम वजन में कितने सिक्के होंगे?

- (a) 100 सिक्के (b) 200 सिक्के  
(c) 250 सिक्के (d) 500 सिक्के

2. The volume of box with length 10 cm, breadth 5 cm and height 6 cm is:

- (a) 21 cubic cm (b) 300 cubic cm  
(c) 40 cubic cm (d) 600 cubic cm

एक बाक्स जिसकी लम्बाई 10 सेमी, चौड़ाई 5 सेमी और ऊँचाई 6 सेमी है, का आयतन होगा?

- (a) 21 घन सेमी (b) 300 घन सेमी  
(c) 40 घन सेमी (d) 600 घन सेमी

P.T.O.

ایک بکس جس کی لمبائی 10 سینٹی میٹر، چوڑائی 5 سینٹی میٹر اور اونچائی چھ سینٹی میٹر ہو، اس کا حجم ہوگا؟

(b) 300 کیوبک سینٹی میٹر

(a) ایک کیوبک سینٹی میٹر

(d) 600 کیوبک سینٹی میٹر

(c) 40 کیوبک سینٹی میٹر

3. Which of the following is correct?

SSF JAMIA MILLIA ISLAMIA  
New Delhi

(a)  $\text{Dividend} = \text{Remainder} \times \text{Quotient} + \text{Divisor}$

(b)  $\text{Dividend} = \text{Quotient} \times \text{Divisor} + \text{Remainder}$

(c)  $\text{Divisor} = \text{Dividend} \times \text{Remainder} + \text{Quotient}$

(d)  $\text{Quotient} = \text{Remainder} \times \text{Divisor} + \text{Dividend}$

निम्नलिखित में कौन सही है?

(a) भाज्य = शेषफल × भागफल + विभाजक

(b) भाज्य = भागफल × विभाजक + शेषफल

(c) विभाजक = भाज्य × शेषफल + भागफल

(d) भागफल = शेषफल × विभाजन + भाज्य

مندرجہ ذیل میں سے کونسا صحیح ہے؟

$$\text{Dividend} = \text{Remainder} \times \text{Quotient} + \text{Divisor} \quad (\text{a})$$

$$\text{Dividend} = \text{Quotient} \times \text{Divisor} + \text{Remainder} \quad (\text{b})$$

$$\text{Divisor} = \text{Dividend} \times \text{Remainder} + \text{Quotient} \quad (\text{c})$$

$$\text{Quotient} = \text{Remainder} \times \text{Divisor} + \text{Dividend} \quad (\text{d})$$

4. If Soha's heart beats 72 times in one minute, how many times does it beat in one day?

SSF JAMIA MILLIA ISLAMIA  
New Delhi

- (a) 18640 times (b) 130608 times  
(c) 103680 times (d) 168400 times

अगर सोहा का दिल 1 मिनट में 72 बार धड़कता है तो दिन में कितनी बार धड़केगा?

- (a) 18640 बार (b) 130608 बार  
(c) 103680 बार (d) 168400 बार

اگر سوہا کا دل ایک منٹ میں 70 مرتبہ دھڑکتا ہے تو ایک دن میں وہ کتنی بار دھڑکے گا؟

- (a) 18640 مرتبہ (b) 130608 مرتبہ  
(c) 103080 مرتبہ (d) 168400 مرتبہ

5. The table shows how rabbits grew every year:

Time	Start	1 year	2 year	3 year	4 year
No. of rabbits	10	18	32	58	108

After which year will the number of rabbits cross 1000?

- (a) 5 years (b) 6 years  
(c) 7 years (d) 8 years

टेबल हर वर्ष खरगोशों की संख्या में वृद्धि को दर्शाती है-

समय	आरम्भ	प्रथम वर्ष	द्वितीय वर्ष	तीसरा वर्ष	चौथा वर्ष
खरगोशों की संख्या	10	18	32	58	108

कितने वर्षों के बाद खरगोशों की संख्या 1000 के पार कर जाएगी?

- (a) 5 साल (b) 6 साल  
(c) 7 साल (d) 8 साल

مندرجہ ذیل ٹیبل بتاتی ہے کہ خرگوش ایک سال میں کتنا بڑھتا ہے؟

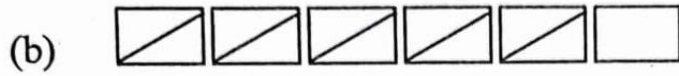
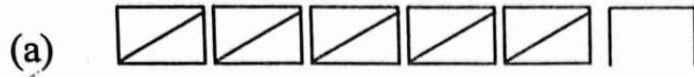
Time	Start	1 year	2 year	3 year	4 year
No. of rabbits	10	18	32	58	108

SSF JAMIA MILLIA ISLAMIA  
New Delhi

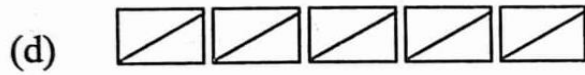
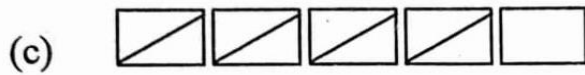
کس سال کے بعد خرگوشوں کی تعداد ایک ہزار سے تجاوز کر جائے گی؟

- (a) 5 سال (b) 6 سال  
(c) 7 سال (d) 8 سال

6. The tally marks for 29 cars are:



SSF JAMIA MILLIA ISLAMIA  
New Delhi

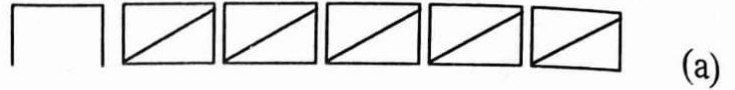


29 कारों की गिनती के लिए टैली मार्क्स-

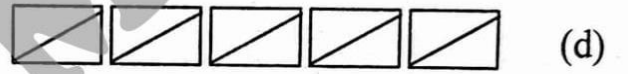
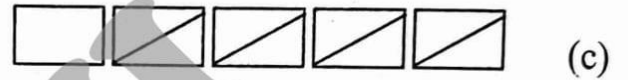
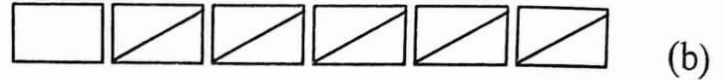


P.T.O.

29 کاروں کے لئے ٹیلی کانشان ہے:



SSF JAMIA MILLIA ISLAMIA  
New Delhi



7. A square carrom board has a perimeter of 280 cm. How much is its area?

- (a) 70 square cm (b) 4900 square cm  
(c) 490 square cm (d) 40 square cm

एक वर्गाकार कैरम बोर्ड की परिसेमा 280 सेमी है। इसका क्षेत्रफल क्या होगा?

- (a) 70 वर्ग सेमी (b) 4900 वर्ग सेमी  
(c) 490 वर्ग सेमी (d) 40 वर्ग सेमी

ایک اسکوائر کیمرم بورڈ 280 cm کا پیرامیٹر ہے تو اس کا رقبہ کتنا ہوگا؟

4900 square cm (b)

70 square cm (a)

40 square cm (d)

490 square cm (c)

8. A thin wire 30 centimetres long is formed into a rectangle. If the width of this rectangle is 5 centimetres what is its length?

(a) 9 cm

(b) 5 cm

(c) 6 cm

(d) 10 cm

SSF JAMIA MILLIA ISLAMIA  
New Delhi

एक 30 सेमी लम्बाई वाले पतला तार से एक आयत बनाया गया है। अगर इस आयत की चौड़ाई 5 सेमी हो तब आयत की लम्बाई क्या होगी

(a) 9 सेमी

(b) 5 सेमी

(c) 6 सेमी

(d) 10 सेमी

30 सेन्टी मिटर लंबाई के तार को एक مستطिल की شکل دی جائے، اگر اس مستطيل کی چوڑائی 5 सेन्टी मिटर ہو تو اس کی لمبائی کیا ہوگی؟

5 cm (b)

9 cm (a)

10 cm (d)

6 cm (c)

P.T.O.



9. Which of the following is the greatest number :

(a) 4.050

(b) 4.50

(c) 4.005

(d) 4.051

निम्नलिखित में सबसे बड़ी संख्या ?

SSF JAMIA MILLIA ISLAMIA  
New Delhi

(a) 4.050

(b) 4.50

(c) 4.005

(d) 4.051

مندرجہ ذیل میں سے کونسا نمبر بڑا ہے؟

4.50 (b)

4.050 (a)

4.051 (d)

4.005 (c)

10. 1 metre and 5 centimetre is same as:

(a) 1.50 m

(b) 1.05 m

(c) 1.005 m

(d) None of these

1 मीटर और 5 सेमी का अर्थ है-

(a) 1.5 मी०

(b) 1.05 मी०

(c) 1.005 मी०

(d) इनमें से कोई नहीं

ایک میٹر اور 5 سینٹی میٹر ایک جیسے ہیں جیسا کہ:

1.05 m (b)

1.50 m (a)

ان میں سے کوئی نہیں (d)

1.005 m (c)

11. An egg costs two and a half rupees. How much will one and a half dozen cost?

(a) 12

(b) 24

(c) 30

(d) 45

एक अण्डे की कीमत  $2\frac{1}{2}$  रुपये है।  $1\frac{1}{2}$  दर्जन अण्डों की कीमत क्या होगी?

(a) 12 रुपये

(b) 24 रुपये

(c) 30 रुपये

(d) 45 रुपये

ایک انڈے کی قیمت ڈھائی روپے ہے تو ڈیڑھ درجن انڈوں کی قیمت کتنی ہوگی؟

$$2\frac{1}{2} \quad 1\frac{1}{2}$$
$$\frac{5}{2} \quad \frac{3}{2}$$
$$\frac{5+3}{2}$$

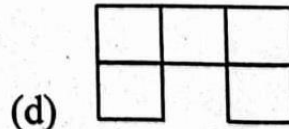
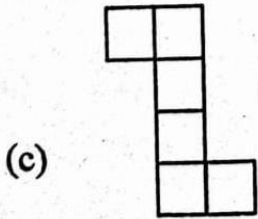
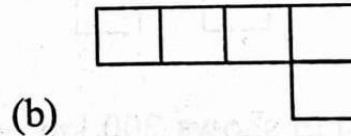
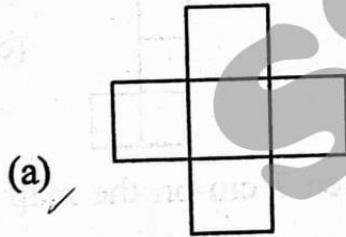
24 (b)

12 (a)

45 (d)

30 (c)

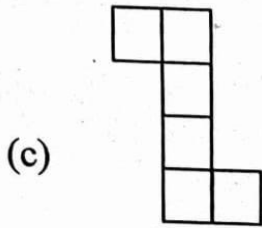
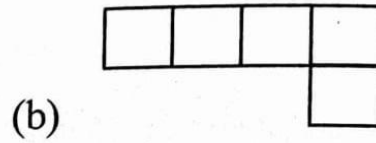

12. Which of the following shapes will fold into a cube?



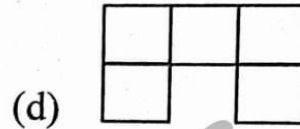
SSF JAMIA MILLIA ISLAMIA  
New Delhi

P.T.O.

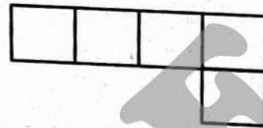
निम्नलिखित में कौनसी आकृति मोड़ने पर घन बनाएगी?



SSF JAMIA MILLIA ISLAMIA  
New Delhi



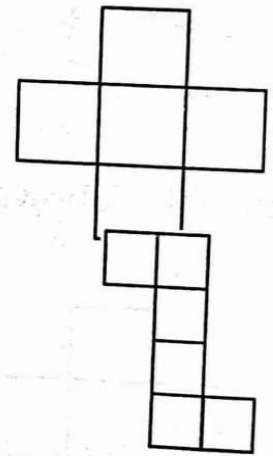
مندرجہ ذیل میں کون سی شکل ایک کیوب میں فولڈ ہوگی؟



(b)



(d)



(a)

(c)

13. If 1 cm on the map shows 200 km on the ground , then 7 cm on the map will be equal to \_\_\_\_\_ km on the ground.

(a) 207 Km

(b) 600 Km

(c) 900 Km

(d) 1400 Km.

यदि मानचित्र पर 200 किमी दूरी को 1 सेमी से दर्शाते हैं, तब मानचित्र पर 7 सेमी बराबर होगा-

(a) 207 किमी

(b) 600 किमी

SSF JAMIA MILLIA ISLAMIA  
New Delhi

(c) 900 किमी

(d) 1400 किमी

अगर نقشے پر ایک cm زمین پر 200 km دکھائی دیتا ہے تو نقشے پر 7 cm برابر ہوگا .....km کے گراؤنڈ پر۔

600 Km (b)

207 Km (a)

1400 Km. (d)

900 Km (c)

14. After changing 132 into a special number, we will get \_\_\_\_\_.

(a) 231

(b) 312

(c) 363

(d) 636

संख्या 132 को एक विशेष संख्या में परिवर्तित करने पर प्राप्त संख्या \_\_\_\_\_।

(a) 231

(b) 312

(c) 363

(d) 636

S-06 (SET-B)

Handwritten calculations:  
$$\begin{array}{r} 132 \\ \times 2 \\ \hline 264 \end{array}$$
  
$$2) \overline{132} \begin{array}{l} 66 \\ 12 \end{array}$$

(13)

P.T.O.

132 کو ایک مخصوص نمبر میں تبدیل کرنے کے بعد ہمیں حاصل ہوگا۔

312 (b)

231 (a)

636 (d)

363 (c)

15. The common factor of 35 and 45 is:

SSF JAMIA MILLIA ISLAMIA  
New Delhi

(a) 5

(b) 7

(c) 9

(d) 3

35 और 45 का सामान्य अव्यव-

(a) 5

(b) 7

(c) 9

(d) 3

35 اور 45 کا مشترک فیکٹر ہے:

7 (b)

5 (a)

3 (d)

9 (c)

16. The smallest common multiple of 4, 5 and 6 is:

(a) 20

(b) 30

(c) 60

(d) 120

S-06 (SET-B)

(14)

4, 5 और 6 का लघुत्तम सामान्य गुणांक?

(a) 20

(b) 30

(c) 60

(d) 120

SSF JAMIA MILLIA ISLAMIA  
New Delhi



4, 5, 6 का सب سے چھوٹا مشترکہ ضرب ہے:

30 (b)

20 (a)

120 (d)

60 (c)

17. Which of the following shapes would NOT look the same after half a turn?

(a) Square

(b) Rectangle

(c) Triangle

(d) Circle

निम्नलिखित में से कौनसी आकृति को आधा मोड़ने पर पहले जैसा नहीं रहता?

(a) वर्ग

(b) आयत

(c) त्रिभुज

(d) वृत्त

مندرجہ ذیل میں سے کونسی شکل ہے جو آدھا موڑنے پر پہلے جیسی نہیں دکھائی دیتی؟

(b) مستطیل

(a) اسکوائر

(d) دائرہ

(c) مثلث P.T.O.

18. Rehman has to travel  $1\frac{1}{4}$  km to reach school. What distance does he travel to go to school and come back home?

(a)  $2\frac{1}{2}$  km

(b)  $2\frac{1}{8}$  km

(c)  $2\frac{1}{4}$  km

(d)  $1\frac{1}{2}$  km

रहमान को स्कूल पहुँचने में  $1\frac{1}{4}$  किमी चलना पड़ता है। स्कूल जाने और फिर घर वापस आने में उसे कितनी दूरी तय करनी होगी?

(a)  $2\frac{1}{2}$  किमी

(b)  $2\frac{1}{8}$  किमी

(c)  $2\frac{1}{4}$  किमी

(d)  $1\frac{1}{2}$  किमी

رحمان اپنے اسکول تک پہنچنے میں  $1\frac{1}{4}$  km کا رقبہ طے کرتا ہے، تو وہ اسکول آنے کے لیے کتنا رقبہ طے کرتا ہے؟

$2\frac{1}{8}$  km (b)

$2\frac{1}{2}$  km (a)

$1\frac{1}{2}$  km (d)

$2\frac{1}{4}$  km (c)

19. One-third of 18 is equal to:

SSF JAMIA MILLIA ISLAMIA  
New Delhi

(a) 6

(b) 9

(c) 4

(d) 5

18 का एक तिहाई है ?

(a) 6

(b) 9

(c) 4

(d) 5

$$\frac{1 \times 18}{3} = 6$$

اٹھارہ کا ایک تہائی برابر ہے:

9 (b)

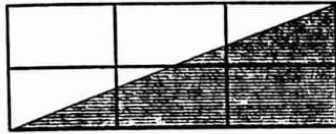
6 (a)

SSF JAMIA MILLIA ISLAMIA  
New Delhi

5 (d)

4 (c)

20.



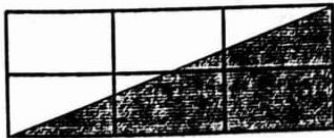
The area of the shaded figure is:

(a) 6 square units

(b) 3 square units

(c) 4 square units

(d) 2 square units



का क्षेत्रफल है-

(a) 6 वर्ग इकाई

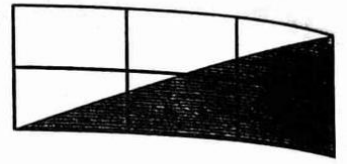
(b) 3 वर्ग इकाई

(c) 4 वर्ग इकाई

(d) 2 वर्ग इकाई

P.T.O.





شڈڈ (Shaded) شکل کا رقبہ ہے:

(b) 13 اسکوائر یونٹ

(a) 16 اسکوائر یونٹ

(d) 12 اسکوائر یونٹ

(c) 14 اسکوائر یونٹ

21. Length of the boundary of a figure is called :

(a) Perimeter

(b) Area

(c) Volume

(d) None of these

एक आकृति की सीमा की लम्बाई-

(a) परिमाण

(b) क्षेत्रफल

(c) आयतन

(d) इनमें से कोई नहीं

SSF JAMIA MILLIA ISLAMIA  
New Delhi

ایک شکل کی حد کی لمبائی ہے:

(b) رقبہ

(a) پیرامیٹر

(d) ان میں سے کوئی نہیں

(c) حجم

22.  $\frac{1}{3}$  of a right angle is equal to \_\_\_\_\_.

(a)  $30^\circ$  (b)  $60^\circ$

(c)  $90^\circ$  (d)  $45^\circ$

$$\frac{1}{3} \times \frac{90}{1} = \frac{90}{3} = 30$$

समकोण का एक तिहाई है-

(a)  $30^\circ$  (b)  $60^\circ$

(c)  $90^\circ$  (d)  $45^\circ$

SSE JAMIA MILLIA ISLAMIA  
New Delhi

دائیں زاویے کا  $\frac{1}{3}$  برابر ہے۔

$60^\circ$  (b)

$30^\circ$  (a)

$45^\circ$  (d)

$90^\circ$  (c)

23. Angles are measured with the help of a \_\_\_\_\_.

(a) Compass

(b) Divider

(c) Protractor

(d) Ruler

कोण को किसकी मदद से मापा जाता है?

(a) कम्पास

(b) विभाजक

(c) प्रोटेक्टर

(d) रूलर

P.T.O.

زادپوں کی پیمائش ہوتی ہے..... کی مدد سے۔

(b) تقسیم کرنے والے آلے سے

(a) قطب نما

SSF JAMIA MILLIA ISLAMIA  
New Delhi

(d) رولر

(c) پروٹریکٹر

24. Jhansi took a loan from bank to buy log boat. She paid back a total of Rs. 37,800 in one year. How much did she pay back every month?

(a) 3,250

(b) 3,150

(c) 3,780

(d) 3,870

झांसी ने बोट खरीदने के लिए बैंक से लोन लिया। उसने एक वर्ष में कुल 37,800 रुपये अदा किए। हर महीने उसने कितने रुपये अदा किए?

(a) 3,250

(b) 3,150

(c) 3,780

(d) 3,870

جھانسی نے ایک کشتی خریدنے کے لئے بینک سے قرض لیا۔ پھر اس نے ایک سال کے اندر اندر 37,800 روپے واپس کر دیا، تو اس نے ہر مہینے کتنے روپے بینک کو دیے ہونگے؟

3,150 (b)

3,250 (a)

3,870 (d)

3,780 (c)

25. Which of the following represent 'one crore'?

(a) 1,00,000

(b) 10,00,000

(c) 1,00,00,000

(d) 10,00,00,000

SSF JAMIA MILLIA ISLAMIA  
New Delhi

निम्नलिखित में से कौन "करोड़" को दर्शाता है?

(a) 1,00,000

(b) 10,00,000

(c) 1,00,00,000

(d) 10,00,00,000

مندرجہ ذیل میں سے کون سا ہندسہ ایک کروڑ کا ہے؟

10,00,000 (b)

1,00,000 (a)

10,00,00,000 (d)

1,00,00,000 (c)

26. Which communities in India migrate for employment?

(a) Factory workers

(b) Farm Labourers

(c) None of these

(d) Both (a) and (b)

P.T.O.

भारत के किस समुदाय के लोग रोजगार के लिए एक जगह से दूसरी जगह पलायन करते हैं?

(a) फैक्ट्री में काम करने वाले

(b) खेतों में मजदूरी करने वाले

(c) इनमें से कोई नहीं

(d) (a) और (b) दोनों

SSF JAMIA MILLIA ISLAMIA  
New Delhi

ہندوستان میں کون سی کمیونٹیز روزگار کے لئے ہجرت کرتی ہیں؟

(b) کھیتوں میں کام کرنے والے مزدور

(a) فیکٹری ورکرس

(d) (a) اور (b) دونوں

(c) ان میں سے کوئی نہیں

27. Who is Mukadam?

(a) The agent for sugarcane factories.

(b) The agent who earn profit.

(c) The agent who lends money to poor villagers.

(d) None of them.

मुकद्दम कौन है?

- (a) शुगल मिल में एजेंट  
(b) मुनाफा कमाने वाला एजेंट  
(c) एजेंट जो गरीब ग्रामीणवासियों को पैसा उधार देते है।  
(d) इनमें से कोई नहीं

SSF JAMIA MILLIA ISLAMIA  
New Delhi

مقدم کون ہوتا ہے؟

- (a) چینی ملوں کا ایجنٹ  
(b) وہ ایجنٹ جو منافع حاصل کرتا ہے۔  
(c) وہ ایجنٹ جو گاؤں کے غریب لوگوں کو پیسے بطور قرض دیتا ہے۔  
(d) ان میں سے کوئی نہیں۔

28. Which part of our body is affected by polio?

- (a) Kidney (b) Lower limbs  
(c) Heart (d) Head

शरीर का कौनसा अंग पोलियो से प्रभावित होता है?

- (a) गुर्दा (b) निचले अंग  
(c) हृदय (d) सिर

P.T.O.

پولیو سے ہمارے جسم کا کونسا حصہ متاثر ہوتا ہے؟

(b) نچلے اعضا

(a) گردہ

(d) دماغ

(c) دل

29. Traits that are passed on from parents to children through genes is known as:

(a) Acquired traits

(b) Non-acquired traits

(c) Non-inherited traits

(d) Inherited traits

लक्षण जो माता-पिता से बच्चों में जीन के माध्यम से पारित होते हैं, कहलाते हैं-

(a) अर्जित लक्षण

(b) गैर अर्जित लक्षण

(c) विरासती लक्षण

(d) गैर विरासती लक्षण

SSF JAMIA MILLIA ISLAMIA  
New Delhi

.....وہ عادتیں جو بچوں میں ماں باپ سے منتقل ہوتی ہیں جین کے ذریعے وہ ہیں

(a) اکتسابی عادتیں

(b) غیر اکتسابی عادتیں

SSF JAMIA MILLIA ISLAMIA  
New Delhi

(c) غیر موروثی عادتیں

(d) موروثی عادتیں

30. Forests can be conserved by:

- (a) Preventing forest fires
- (b) Cutting them
- (c) Over grazing animals
- (d) All of these

جंगलों को सुरक्षित किया जा सकता है?

- (a) जंगलों में लगने वाली आग से बचाव
- (b) उन्हें काटकर
- (c) जानवरों को अधिक चराकर
- (d) उपरोक्त सभी

P.T.O.



جنگل کی حفاظت کی جاسکتی ہے۔

(a) جنگل کی آگ کو روک کر

(b) ان کو کاٹ کر کے

(c) زیادہ چرنے والے جانوروں سے

(d) ان تمام سے

SSF JAMIA MILLIA ISLAMIA  
New Delhi

31. What is a natural resource?

- (a) Resource we get from our house
- (b) Resource we get from people
- (c) Resource we get from nature
- (d) Resource we get from neighbours

प्राकृतिक संसाधन क्या हैं?

- (a) संसाधन जो हमें घरों से मिलते हैं।
- (b) संसाधन जो हमें लोगों से मिलते हैं।
- (c) संसाधन जो हमें प्रकृति से मिलते हैं।
- (d) संसाधन जो हमें पड़ोसी से मिलते हैं।

قدرتی وسائل ہیں؟

(a) خارجی استعمال سے حاصل شدہ وسائل

(b) لوگوں سے جو وسائل ہم حاصل کرتے ہیں۔

(c) وہ وسائل جو ہم قدرتی طور پر حاصل کرتے ہیں۔

(d) وہ وسائل جو ہم اپنے پڑوسیوں سے حاصل کرتے ہیں۔

SSF JAMIA MILLIA ISLAMIA  
New Delhi

32. The unwanted plants which grows with the crops are called:

(a) Crop

(b) Weeds

(c) Tools

(d) Plant

فصلوں کے ساتھ اُگنے والے اناج کے پودے کون سے کہلاتے ہیں؟

(a) فصل

(b) جنگلی گھاس

(c) ٹولز

(d) پودے

فصلوں کے ساتھ جو پودے اُگتے ہیں، ان کو..... کہا جاتا ہے۔

(b) جنگلی گھاس

(a) فصل

(d) پودے

(c) آلات

P.T.O.

33. Which of the following is a seed?

(a) Bajra

(b) Apple

(c) Banana

(d) Pear

इनमें से कौन बीज है?

SSF JAMIA MILLIA ISLAMIA  
New Delhi

(a) बाजरा

(b) सेब

(c) केला

(d) नाशपाती

مندرجہ ذیل میں سے کون سے بیج ہیں؟

(b) سیب

(a) باجرا

(d) ناشپاتی

(c) کیلا

34. People collected things from the forest for their use and some they would sell in the town and with the money they bought:

(a) Salt

(b) Oil

(c) Clothes

(d) All the above

मनुष्य अपने इस्तेमाल के लिए जंगल से चीजे इकट्ठा करते थे। उसमें से कुछ शहर जाकर बेचते और उससे मिलने वाली रकम से ----- खरीदते थे।

- (a) नमक (b) तेल  
(c) कपड़े (d) उपरोक्त सभी

لوگ جنگل سے چیزیں جمع کرتے ہیں اپنے استعمال کے لئے اور کچھ وہ ان میں سے شہر میں جا کر فروخت کر دیتے ہیں، اس پیسے سے وہ لاتے ہیں۔

SSF JAMIA MILLIA ISLAMIA  
New Delhi

- (a) نمک (b) تیل  
(c) کپڑے (d) یہ سب

35. The occupation of Khedi village is:

- (a) Fishing  
(b) Pitching  
(c) Farming  
(d) None of these

खेड़ी गाँव का व्यवसाय है-

- (a) मछली पकड़ना (b) मिट्टी या पत्थर लगाना  
(c) खेती करना (d) इनमें से कोई नहीं

P.T.O.

کھڈی گاؤں کا پیشہ..... ہے۔

(b) چنگ

(a) مچلی پکڑنا

(d) ان میں سے کوئی نہیں

(c) کھیتی

36. Which is our National Game?

SSF JAMIA MILLIA ISLAMIA  
New Delhi

(a) Cricket

(b) Basket ball

(c) Kabaddi

(d) Hockey

हमारा राष्ट्रीय खेल कौनसा है?

(a) क्रिकेट

(b) बास्केट बाल

(c) कबड्डी

(d) हॉकी

हारा قومی کھیل کیا ہے؟

(b) باسکٹ بال

(a) کرکٹ

(d) ہاکی

(c) کبڈی

37. P. T. Usha is a famous player in:

(a) Badminton

(b) Hockey

(c) Athletics

(d) Table tennis

S-06 (SET-B)

(30)

पी० टी० ऊषा किस खेल की प्रसिद्ध खिलाड़ी है?

- (a) बैडमिन्टन (b) हॉकी  
(c) एथलीट (d) टेबिल टेनिस

SSF JAMIA MILLIA ISLAMIA  
New Delhi

پی ٹی او شامشہور کھلاڑی تھی..... کی۔

- (a) بیڈمنٹن (b) ہاکی  
(c) اتھلیٹک (d) ٹیبل ٹینس

38. What was the name given to the person who were doing menial jobs?

- (a) Barber (b) Actor  
(c) Dancer (d) Harijans

कम महत्व के कार्य करने वाले लोगों को क्या नाम दिया जाता था?

- (a) नाई (b) अभिनेता  
(c) नृत्यकार (d) हरिजन

جو پچھلی سطح کے کام انجام دیتا ہے اس کو کیا کہا جاتا ہے؟

- (a) نائی (b) ایکٹر  
(c) ناچنے والا (d) ہریجن

P.T.O.

39. What is the name of Gandhiji's Ashram?

- (a) Sharda (b) Champaran  
(c) Sabarmati (d) Bardoli

गाँधीजी के आश्रम का नाम क्या है?

SSF JAMIA MILLIA ISLAMIA  
New Delhi

- (a) शारदा (b) चम्पारन  
(c) साबरमती (d) बारदौली

گاندھی جی کے آشرم کا کیا نام ہے؟

چمپارن (b)

شاردا (a)

باردولی (d)

سابرمتی (c)

40.

In winters when we blow out air it is ----- than the temperature of air outside.

- (a) Warmer  
(b) Cooler  
(c) Normal  
(d) All the above

सर्दियों में जब हम हवा बाहर निकालते हैं, यह बाहर के तापमान के मुकाबले में .....

SSF JAMIA MILLIA ISLAMIA  
New Delhi

- (a) गर्म (b) ठंडी  
(c) सामान्य (d) उपरोक्त सभी

.....होती है-  
جب ہم سردی میں منہ سے ہوا نکالتے ہیں تو وہ خارجی فضا سے زیادہ.....

(a) زیادہ گرم (b) زیادہ ٹھنڈی

(c) معمول کے مطابق (d) یہ سبھی

41. The story "Blow Hot Blow Cold" was written by:

- (a) Zakir Hussain  
(b) A. P. J. Abdul Kalam  
(c) Fakhruddin Ali Ahmad  
(d) M. Hidayatullah

“ब्लो हॉट ब्लो कोल्ड” कहानी किसने लिखी थी?

- (a) डा० जाकिर हुसैन  
(b) ए० पी० जे० अब्दुल कलाम  
(c) फखरुद्दीन अली अहमद  
(d) मौ० हिदायतुल्लाह

P.T.O.



"Blow Hot, Blow Cold" نامی قصہ کس نے لکھا ہے؟

(a) ڈاکٹر ذاکر حسین

(b) اے پی جے عبدالکلام

(c) فخر الدین علی احمد

(d) ایم ہدایت اللہ

42. How many times does our heart beat in one minute?

(a) 100-120

(b) 72-80

(c) 150-200

(d) 160-170

हमारा हृदय एक मिनट में कितनी बार धड़कता है?

(a) 100-120

(b) 72-80

(c) 150-200

(d) 160-170

ایک منٹ میں ہمارا دل کتنی بار دھڑکتا ہے؟

72-80 (b)

100-120 (a)

160-170 (d)

150-200 (c)

43. What is the name of the top layer of the earth?

(a) Mantle

(b) Crust

(c) Outer core

(d) Inner core

پृथوی کی سب سے ऊپری سतह का नाम-

(a) आवरण

(b) क्रस्ट

(c) बाहरी कोर

(d) अन्दरूनी कोर

زمین کی اوپری سطح کا کیا نام ہے؟

(a) کرست

(a) مینٹل

(d) اندرونی حصہ

(c) بیرونی حصہ

44. Earthquake intensity is measured by:

SSF JAMIA MILLIA ISLAMIA  
New Delhi

(a) Seismograph

(b) Seismogram

(c) Richter scale

(d) Magnitude

P.T.O.

भूकम्प की तीव्रता मापी जाती है-

- (a) सीसमोग्राफ (b) सीस्मोग्राम  
(c) रिचर स्केल (d) परिमाण

SSF JAMIA MILLIA ISLAMIA  
New Delhi

زلزلے کی شدت کو ناپا جاتا ہے۔

- (a) سیزموگراف (b) سیزموگرام  
(c) ریکٹراسکیل (d) شدت

45. Excessive rainfall can lead to:

- (a) Tsunami  
(b) Flood  
(c) Famine  
(d) Drought

बहुत अधिक वर्षा के कारण-

- (a) सुनामी (b) बाढ़  
(c) अकाल (d) सूखा

بارش کی زیادتی سبب بن سکتی ہے.....کا۔

(a) سونامی کا

(b) سیلاب کا

(c) بھک مری کا

(d) قحط سالی کا

46. Igloo is made up of:

SSF JAMIA MILLIA ISLAMIA  
New Delhi

(a) Mud

(b) Wood

(c) Snow

(d) Canvas

इग्लू किससे बना होता है?

(a) मिट्टी

(b) लकड़ी

(c) बर्फ

(d) केनवस

برف کا گھر..... سے بنتا ہے۔

(a) کیچڑ

(b) لکڑی

(c) برف

(d) کینوس

47. Tourists who come to Srinagar love to stay in a:

(a) Jumbo

(b) Loner

(c) Dab

(d) Houseboat

P.T.O.

श्रीनगर घूमने आने वाले यात्री किस में ठहरना पसंद करते हैं?

(a) जम्बो

(b) लोनर

(c) डब

(d) हाउसबोट

وہ سیاح جو سری نگر آتے ہیں وہ رہنا پسند کرتے ہیں..... میں۔

(b) لوزمیں

(a) جمبومیں

(d) ہاؤس بوٹ

(c) ڈب میں

48. Which gas is used for cooking in houses?

(a) Liquid Petroleum Gas

(b) Methane Gas

(c) Compressed Natural Gas

(d) Ethane Gas

SSF JAMIA MILLIA ISLAMIA  
New Delhi

घरों में खाना बनाने के लिए कौनसी गैस का इस्तेमाल होता है?

(a) द्रवित पेट्रोलियम गैस

(b) मीथेन

(c) संकुचित प्राकृतिक गैस

(d) ईथेन

گھروں میں کھانا پکانے کے لئے کونسی گیس استعمال ہوتی ہے؟

(b) میتھین گیس

(a) لیکوائنڈ پٹرولیم گیس

(d) میتھین گیس

(c) کمپریسڈ قدرتی گیس

49. Indian Space Agency is:

SSF JAMIA MILLIA ISLAMIA  
New Delhi

(a) NASA

(b) CNSA

(c) ISRO

(d) ISA

भारतीय अंतरिक्ष संस्था है-

(a) नासा

(b) इसरो

(c) सी. एन. एस. ए.

(d) आई. एस. ए.

ہندوستانی خلائی ایجنسی ہے۔

ISRO (b)

NASA (a)

ISA (d)

CNSA (c)

50. Study of space is called:

(a) Astrology

(b) Astronomy

(c) Cosmology

(d) Technology

P.T.O.

S-06 (SET-B)

(39)

(c) ब्रह्माण्ड विज्ञान

(b) खगोल विज्ञान

(d) तकनीकी

SSF JAMIA MILLIA ISLAMIA  
New Delhi

(b) ایسٹرنومی

خلائی مطالعہ کو کہا جاتا ہے:

(a) ایسٹرنومی

(d) ٹکنالوجی

(c) کوسمولوجی

51. Salar Jung Museum is situated in -----

(a) Hyderabad

(b) Lucknow

(b) Jaipur

(d) Delhi

سالار جگ संगراहलय कहाँ है?

(a) हैदराबाद

(b) लखनऊ

(c) जयपुर

(d) दिल्ली

سالار جگ میوزیم واقع ہے ..... میں۔

(b) لکھنؤ

(a) حیدرآباد

(d) دہلی

(c) جے پور

52. Golconda Fort was built by:

- (a) Mughal Dynasty (b) Rajput Dynasty  
(c) Qutubshahi Dynasty (d) Tughlaq Dynasty

गोलकोंडा किला किसने बनवाया?

SSF JAMIA MILLIA ISLAMIA  
New Delhi

- (a) मुगल वंश (b) राजपूत वंश  
(c) कुतुबशाही वंश (d) तुगलक वंश

गोलकोंडा किला का قلعہ سب سے پہلے بنایا تھا..... نے۔

(a) مغلیہ سلطنت نے (b) راجپوتوں نے

(c) قطب شاہی سلطنت نے (d) تغلق سلطنت نے

53. Where is Himalayan Institute of Mountaineering?

- (a) Agartala (b) Darjeeling  
(c) Dehradun (d) Gangtok

हिमालयन पर्वतारोही संस्थान कहाँ पर है?

- (a) अगरतला (b) दार्जिलिंग  
(c) देहरादून (d) हंगटाक

P.T.O.



ماونٹینزنگ کا ہمالین انسٹی ٹیوٹ کہاں واقع ہے؟

(a) اگرتلا

(b) دارجلنگ

(c) دہرہ دون

(d) گنگ ٹوک

54. Bachendri Pal is associated with:

SSF JAMIA MILLIA ISLAMIA  
New Delhi

(a) Wrestling

(b) Badminton

(c) Hockey

(d) Mountaineering

बछेन्द्री पाल किससे जुड़ी है?

(a) कुश्ती

(b) बैडमिन्टन

(c) हॉकी

(d) पर्वतारोही

بچھندری پال کا تعلق ہے۔

(b) چڑیا بیل

(a) ریسنگ

(d) پہاڑ پر چڑھنے سے

(c) ہاکی

55. Body should be kept at an angle of ..... while climbing a rock.

(a)  $30^\circ$

(b)  $360^\circ$

(c)  $180^\circ$

(d)  $90^\circ$

चट्टान पर चढ़ते समय शरीर को ..... के कोण पर रखना चाहिए।

(a)  $30^\circ$

(b)  $360^\circ$

(c)  $180^\circ$

(d)  $90^\circ$

SSF JAMIA MILLIA ISLAMIA  
New Delhi

چٹان پر چڑھتے ہوئے انسان کو اپنے جسم کو کتنے زاویے پر رکھنا چاہئے؟

$360^\circ$  (b)

$30^\circ$  (a)

$90^\circ$  (d)

$180^\circ$  (c)

56. Quinine is a medication used to treat malaria is obtained from:

(a) Leaf

(b) Fruit

(c) Bark

(d) Root

क्यूनिन, मलेरिया को दूर करने के लिए दी जाने वाली दवा प्राप्त की जाती है-

(a) पत्तियों से

(b) फल से

(c) छाल

(d) जड़ से

P.T.O.

(43)

S-06 (SET-B)

کوئین ایک دوا ہے جو میسر یا کالکول کرنے کے لئے استعمال کی جاتی ہے۔ وہ حاصل ہوتی ہے..... سے۔

(a) پتوں سے

(b) پھلوں سے

(c) چھال

(d) What is Anaemia? 7

57. What is Anaemia?

SSF JAMIA MILLIA ISLAMIA  
New Delhi

(a) Viral disease

(b) Iron deficiency disease

(c) Fungal disease

(d) Calcium deficiency disease

अनीमिया क्या है?

(a) वायरल रोग

(b) आयरन की कमी

(c) कवक रोग

(d) कैल्शियम की कमी

انیمیا کیا ہے؟

(a) وائرل بیماری

(b) آئرین کی کمی کی بیماری

(c) فنگل بیماری

(d) کیٹیم کی کمی کی بیماری

SSF JAMIA MILLIA ISLAMIA  
New Delhi

58. In which season malaria is more common?

(a) Rainy season

(b) Winter

(c) Summer

(d) Spring

کس موسم میں ملیریا کی بیماری ہونا عام بات ہے؟

(a) بارش کے موسم میں

(b) سردی کے موسم میں

(c) گرمیوں میں

(d) ساون میں

P.T.O.

کس موسم میں میٹیریا عام ہو جاتا ہے؟

(a) موسم برسات میں

(b) سردی میں

(c) گرمی میں

(d) موسم بہار میں

SSF JAMIA MILLIA ISLAMIA  
New Delhi

59. How can you separate salt from water?

(a) Evaporation

(b) Winnowing

(c) Filtration

(d) None of these

پانی سے نمک کو الگ کس प्रकार करते हैं?

(a) वाष्पीकरण

(b) फटकना

(c) छानकर

(d) इनमें से कोई नहीं

آپ نمک کو پانی سے کیسے الگ کر سکتے ہیں؟

(a) بخارات سے

(b) اڑانا

(c) فلٹریشن سے

(d) ان میں سے کوئی نہیں

SSF JAMIA MILLIA ISLAMIA  
New Delhi

60. The clothes dry faster on:

(a) Cloudy days

(b) Sunny days

(c) Rainy days

(d) Winter days

कपड़े तेजी से सूखते हैं-

(a) बादल छाए हुए दिनों में

(b) सूरज निकलते हुए दिनों में

(c) वर्षा के दिनों में

(d) सर्दी के दिनों में

P.T.O.

کپڑے جلدی سوکھ جاتے ہیں.....

(a) بادل کے دنوں میں

(b) دھوپ کے دنوں میں

(c) بارش کے دنوں میں

(d) سردی کے دنوں میں

SSF JAMIA MILLIA ISLAMIA  
New Delhi

61. Porto Alegre is a city in:

(a) Argentina

(b) Colombia

(c) Chile

(d) Brazil

پورٹ االٹری ایک شہر ہے۔

(a) ارجنٹینا میں

(b) کولمبیا میں

(c) چلی میں

(d) برازیل میں

"Porto Alegre" شہر ہے..... کا۔

(b) کولمبیا

(a) ارجنٹینا

(d) برازیل

(c) چلی

62. Every drops counts." is the slogan related to -----.

- (a) Counting of drops of any liquid
- (b) Counting of water drops
- (c) Importance of water
- (d) Importance of petrol

SSEF JAMIA MILLIA ISLAMIA  
New Delhi

“एवरी ड्रॉप काउन्ट” स्लोगन किस से जुड़ा है?

- (a) किसी द्रव के बूंदों की गिनती
- (b) पानी की बूंदों की गिनती
- (c) पानी का महत्व
- (d) पेट्रोल का महत्व

ہر قطرہ معنی رکھتا ہے۔ اس نعرے کا تعلق ..... سے تھا۔

(a) ہر بہنے والی چیز کے قطرہ سے

(b) پانی کے قطرے سے

(c) پانی کی اہمیت سے

(d) پٹرول کی اہمیت سے

P.T.O.



63. Who was Al-Biruni?

- (a) Traveller (b) Leader  
(c) Actor (d) Painter

अल-बरूनी कौन था?

SSF JAMIA MILLIA ISLAMIA  
New Delhi

- (a) यात्री (b) नेता  
(c) अभिनेता (d) चित्रकार

البرونی کون تھا؟

(a) سیاح

(b) قائد

(c) ایکٹر

(d) رنگ ریز

64. From which country did Chillies come to our country?

- (a) Pakistan (b) South America  
(c) Australia (d) Africa

हमारे देश में मिर्च किस देश से आई

(a) पाकिस्तान

(b) साउथ अमेरिका

(c) ऑस्ट्रेलिया

(d) अफ्रीका

SSEF JAMIA MILLIA ISLAMIA  
New Delhi

ہمارے ملک میں کس ملک سے مرچ آتی ہیں؟

(b) ساؤتھ امریکہ

(a) پاکستان

(d) افریقہ

(c) آسٹریلیا

65. What is the biological name of pitcher plant?

(a) Nepenthes

(b) Naphtalene

(c) Naphtese

(d) Napenthalese

पिचर पौधे का बाइलोजिकल नाम क्या है?

(a) निपेन्थीस

(b) नेपथेलीन

(c) नैपथीस

(d) नैपेन्थैलीस

پچر پلانٹ کا حیاتیاتی نام کیا ہے؟

(b) نیپتھیلین

(a) نیپتھس

(d) نیپتھالیس

(d) نیپتھس

(d) P.T.O.

66. Doctor had advised to eat sprouts because they are:

- (a) Low carbohydrates
- (b) Very fatty
- (c) Low glucose
- (d) ~~Very~~ nutritious

SSF JAMIA MILLIA ISLAMIA  
New Delhi

डाक्टर ने अंकुरित खाने की सलाह दी क्योंकि इनमें है?

- (a) कम कार्बोहाइड्रेट्स
- (b) वसा की अधिकता
- (c) कम ग्लूकोज
- (d) अधिक पोषक तत्व

डाक्टर نے انکرت کھانے کا مشورہ دیا ہے کیوں کہ وہ ہوتا ہے۔

(a) کاربوہائیڈریٹ کی کمی والا

(b) بہت چربی والا

(c) کم گلوکوز والا

(d) بہت زیادہ غذائیت والا

67. Deficiency of vitamin C causes:

- (a) Beri-Beri (b) Goiter  
(c) Scurvy (d) Rickets

विटामिन C की कमी के कारण

SSF JAMIA MILLIA ISLAMIA  
New Delhi

- (a) बेरी-बेरी (b) घेंघा  
(c) स्कर्वी (d) सूखा रोग

وٹامن سی کی کمی سبب بنتی ہے۔

(Beri-Beri) بیبری (a)

(Scurvy) اسکروی (b)

گھٹلی (c)

(Rickets) رکٹس (d)

68. Eating spoiled food causes:

- (a) Malaria (b) Typhoid  
(c) Food poisoning (d) Fever

खराब खाना खाने से कौनसी बीमारी हो सकती है?

- (a) मलेरिया (b) आंत्र ज्वर  
(c) भोजन पायसनिंग (d) बुखार

P.T.O.

خراب کھانا کھانا سبب بنتا ہے:

(a) ملیریا

(b) ٹائیفوئیڈ

SSF JAMIA MILLIA ISLAMIA  
New Delhi

(c) فوڈ پوائزنگ

(d) بخار

69. Which of these is a proper food?

(a) Pizza

(b) Burger

(c) Chips

(d) Vegetables

इनमें से कौन उपयुक्त भोजन है?

(a) पिज्जा

(b) बर्गर

(c) चिप्स

(d) सब्जियाँ

مندرجہ ذیل میں سے کونسا کھانا معمول کا کھانا ہے؟

(a) پیزا

(b) برگر

(c) چیس

(d) سبزیاں

70. The digestion of food starts from:

- (a) Stomach (b) Mouth  
(c) Small intestine (d) Large Intestine

भोजन का पाचन शुरू होता है।

SSF JAMIA MILLIA ISLAMIA  
New Delhi

- (a) पेट से (b) मुँह से  
(c) छोटी आँत से (d) बड़ी आँत से

کھانے کا ہضم ہونا..... سے شروع ہوتا ہے۔

- (a) پیٹ (b) منہ  
(c) چھوٹی آنتوں سے (d) لمبی آنتوں سے

71. We should eat food slowly and ----- well.

- (a) chew (b) digest  
(c) gulf (d) None of these

ہمیں کھانا آہستہ آہستہ اور اچھی طرح..... چاہئے۔

- (a) چبا کر (b) پचा کر  
(c) घटकना (d) इनमें से कोई नहीं

ہمیں کھانا آہستہ آہستہ کھانا چاہئے اور اچھی طرح..... چاہئے۔

- (a) چبانا (b) ہضم کرنا  
(c) نگلنا (d) ان میں سے کوئی نہیں

P.T.O.

72. Kalbolia is a kind of:

- (a) Musical instrument (b) Design  
(c) Song (d) Dance form

कालबेलिया एक प्रकार की-

SSF JAMIA MILLIA ISLAMIA  
New Delhi

- (a) संगीत का यंत्र (b) डिजाइन  
(c) गाना (d) नृत्य

कालबोलिया एक قسم کی ..... ہے۔

- (a) موسیقی آلات (b) ڈیزائن  
(c) گانا (d) رقص کی شکل

73. Why dogs are used in special search operations by police?

- (a) Special sense of smell (b) Intelligent animals  
(c) Helpful animals (d) Amazing animals

पुलिस अपने स्पेशल सर्च आपरेशन में कुत्तों का इस्तेमाल क्यों करती है?

- (a) खास सूँघने की शक्ति (b) बुद्धिमान जानवर  
(c) मददगार जानवर (d) अद्भुत जानवर

پولس کے ذریعے مخصوص تفتیش کے معاملات میں کتوں کو کیوں استعمال کیا جاتا ہے؟

(b) سمجھدار جانور

(a) خاص سونگھنے کی طاقت

SSF JAMIA MILLIA ISLAMIA  
New Delhi

(d) عجیب و غریب جانور

(c) مددگار جانور

74. Snakes are killed due to their body parts and which is sold:

(a) Horn

(b) Skin

(c) Must

(d) Tusk

साँप के शरीर के किस हिस्से के बेचे जाने के कारण उन्हें मारा जाता है?

(a) सींग

(b) कस्तूरी

(c) त्वचा

(d) दाँत

سانپوں کو ان کے کس جسم کے حصے کی وجہ سے مارا جاتا ہے اور وہ بیچا بھی جاتا ہے۔

(b) کستوری

(a) سینگ

(d) دانت

(c) اوپری کھال

75. Which body part helps frogs to get their food?

(a) Hands

(b) Tongue

(c) Feet

(d) Teeth

मेढक के शरीर का कौनसा हिस्सा उसके भोजन प्राप्त करने में मदद करता है?

(a) हाथ

(b) जीभ

(c) पैर

(d) दाँत

P.T.O.



جسم کا کون سا حصہ مینڈک کو اپنی غذا حاصل کرنے میں مدد کرتا ہے؟

(a) ہاتھ

(b) زبان

SSF JAMIA MILIA ISLAMIA  
New Delhi

(c) پاؤں

(d) دانت

76. \_\_\_\_\_ is Taj Mahal situated?

(a) How

(b) When

(c) Who

(d) Where

77. Tick the correct spelling:

(a) Defination

(b) Definition

(c) Definision

(d) Dafintion

78. "I went with my friend Sana to buy chocolates and toys." Identify the Proper Noun in the sentence.

(a) Chocolates

(b) Toys

(c) Sana

(d) friend

79. This task seems \_\_\_\_\_ possible to me.

(a) im

(b) un

(c) ill

(d) dis

80. The superlative degree of bad is -----.

(a) more bad

(b) badder

(c) worst

(d) worse

SSF JAMIA MILLIA ISLAMIA  
New Delhi

81. Tick the correct symbol for Exclamatory Mark.

(a) (.)

(b) (!)

(c) (?)

(d) (,)

82. He won the competition. The Trophy is \_\_\_\_\_.

(a) His

(b) her

(c) him

(d) he

83. Geeta saw \_\_\_\_\_ in the mirror and smiled.

(a) Geeta

(b) herself

(c) yourself

(d) itself

84. Identify the word which is not noun:

(a) Pen

(b) Pencil

(c) Textbook

(d) Write

P.T.O.

85. Identify the kind of tense for the following sentence:

"I went to school yesterday."

- (a) Simple past Tense
- (b) Simple present Tense
- (c) Simple future Tense
- (d) Present continuous Tense

86. Select the correct spelling:

- (a) Beautiful
- (b) Butifull
- (c) Beautifull
- (d) Baeutiful

87. Identify the proper noun among the following:

- (a) Book
- (b) friend
- (c) Monument
- (d) New Delhi

88. Greg is as smart as ----- is.

- (a) I
- (b) Me
- (c) She
- (d) We

89. Choose the correct statement:

(a) He is more unhappy than his friend.

(b) He is most unhappy than this friend.

SSF JAMIA MILLIA ISLAMIA  
New Delhi

(c) He is unhappier than his friend.

(d) He is unhappy than his friend.

90. Find the incorrect sentence.

(a) Sun rises in the east.

(b) It will rain.

(c) Jenny is my best friend.

(d) John is tallest boy in my class.

91. "Rama's book is old having yellow and torn pages." Which of the following word is not an adjective?

(a) old

(b) yellow

(c) book

(d) torn

P.T.O.

92. \_\_\_\_\_ car is this?

(a) Whose

(b) Who

(c) How

(d) When

93. Choose the exclamatory word in the following sentence:

Hurray! we won the match.

SSF JAMIA MILLIA ISLAMIA  
New Delhi

(a) Won

(b) Match

(c) We

(d) Hurray

94. Tick the opposite of the word "honest".

(a) in honest

(b) un honest

(c) dis honess

(d) inshonest

95. Tick the opposite of the word "expected".

(a) in expected

(b) unexpected

(c) disexpected

(d) imexpected

96. Give the opposite of 'good'.

(a) Vainly

(b) bad

(c) better

(d) worst

SSF JAMIA MILLIA ISLAMIA  
New Delhi

When you watch the Republic Day Parade, do you wonder who built the Rashtrapati Bhawan, the Rajpath and the India Gate? They were mainly the work of Sir, Edwin Lutyens. Edwin Lutyen's father, Charles Lutyens, was in the British Army. He was also a good painter.

97. When is Republic Day celebrated?

(a) 15th August

(b) 2nd October

(c) 26th January

(d) 29th January

98. What did Charles Lutyens, Edwin Lutyens father do?

(a) He was in Chinese Army.

(b) He was in Russian Army.

(c) He was in Indian Army.

(d) He was in British Army.

P.T.O.

99. Where is India Gate situated?

(a) New Delhi

(b) Calcutta

(c) Mumbai

(d) Chennai

100. Who built the Rashtrapati Bhawan?

(a) Charles Lutyens

**SSE JAMIA MILLIA ISLAMIA  
New Delhi**

(b) Edwin Lutyens

(c) Edwin Charles

(d) Charles Edwin

**SSE JMI**